

Lista de Exercícios CT-200 – Primeiro Bimestre 2010

Carlos Henrique Quartucci Forster
Estagiário: Wesley Telles

Revisão de Teoria de Conjuntos

1. Sejam $A = \{1,2\}$ e $B = \{x, y, z\}$. Quais os elementos dos conjuntos:

- a) $A \times B \times A$
- b) 2^B
- c) A^2
- d) o conjunto de todas as possíveis partições de A
- e) $\{p \in 2^B \mid |p| \in A\}$

2. Dê exemplos de uma relação:

- a) que seja simétrica e reflexiva, mas não transitiva
- b) que seja reflexiva e transitiva, mas não simétrica
- c) que seja simétrica e transitiva, mas não reflexiva

3. Dê exemplos de uma função:

- a) que seja injetora, mas não sobrejetora
- b) que seja sobrejetora, mas não injetora

4. Mostrar que o conjunto dos inteiros é contável.

5. Mostrar que o conjunto das funções $f: \mathbb{N} \rightarrow \mathbb{N}$ é incontável.

Dica: considerar a função $f(n) = fn(n)+1$

6. Quantas partições existem para o conjunto $\{1, 2, 3, 4\}$?

7. Quantas relações de equivalência distintas podem ser definidas para o conjunto $\{1, 2, 3, 4, 5\}$?

8. Listar ou descrever os elementos dos conjuntos definidos abaixo.

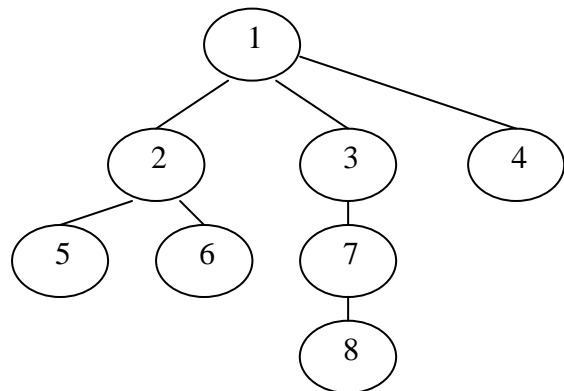
a) $A = \left\{ X \in 2^{\{1,2,3,4\}} \mid \sum_{i \in X} i = 5 \right\}$

b) $B = \{x \in \mathbb{N} \mid \exists y \in \mathbb{N}, 3y + 1 = x\}$

c) $C = \{a, b\} \left(\{c, d\}^* \cup \{a\}^* \right)$

d) D é o fecho transitivo da relação R .

R é definida como a relação “é pai de”
na árvore ao lado, onde o nó 1 é o nó raiz.



9. Qual o problema com a seguinte demonstração:

Num conjunto de h cavalos, todos têm a mesma cor.

Base da indução: No caso $h=1$ fica claro que todos têm a mesma cor.

Passo indutivo: Assumir verdadeira a hipótese de que num conjunto de h cavalos todos têm a mesma cor. Provar para um conjunto de $h+1$ cavalos. Considere o conjunto H_1 como o conjunto H com um cavalo removido. Pela hipótese da indução, todos cavalos de H_1 têm a mesma cor. Agora retorne o cavalo removido e remova algum outro, formando o conjunto H_2 . Novamente, todos os cavalos de H_2 têm a mesma cor e fica provado que todos os cavalos de H têm a mesma cor.

Linguagens

10. Considere o alfabeto $\Sigma = \{a\}$. Descubra se Σ^* é contável.

11. Considere o alfabeto $\Sigma = \{a,b\}$. Descubra se Σ^* é contável.

12. Existe linguagem de Σ^* com Σ finito que não seja contável?

13. O conjunto de todas as linguagens de Σ^* é contável? Responda intuitivamente.

14. Verifique se o conjunto das cadeias de comprimento infinito sobre o alfabeto $\Sigma = \{a,b\}$ é contável.

15. Listar os elementos (até comprimento 3, inclusive) da linguagem L descrita recursivamente como:

(a) $\varepsilon \in L, a \in L (\forall a \in \{1,2,3\})$

(b) $awb \in L (\forall w \in L, \forall a, b \in \{1,2,3\} e a < b)$

(c) L contém apenas elementos obtidos dos elementos descritos em (a) a partir da aplicação de um número finito de vezes do passo (b).

16. Escreva a descrição formal usando notação de conjunto e recursividade para as seguintes linguagens:

(a) todas cadeias de comprimento l sobre o alfabeto $\{a, b\}$.

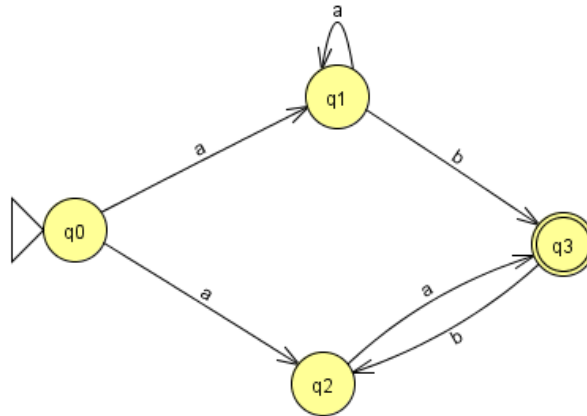
(b) todas cadeias de comprimento menor que l sobre o alfabeto $\{a, b\}$.

(c) todas cadeias da linguagem: $L_{ij} = \{a^i b^j\}$ com i e j dados e suas permutas.

17. Construa uma função recursiva numa linguagem de programação para testar se uma sub-cadeia de caracteres forma um palíndromo. A função deve retornar verdadeiro ou falso e realizar uma chamada a si própria passando a cadeia original e os índices inicial e final da sub-cadeia a ser analisada.

18. Construa para cada item abaixo uma expressão regular que represente a linguagem descrita

- a) Toda cadeia sobre o alfabeto **{a,b}** de tamanho maior ou igual a 3.
- b) Toda cadeia sobre **{c,d}** que não contém a subcadeia **cc** e nem comece com **dcd**.
- c) Toda cadeia sobre **{a,b}** aceita pelo autômato abaixo.



Autômatos finitos

19. Verifique se as cadeias **aaaa**, **abab** e **bbaa** são aceitas pelos autômatos definidos a seguir.

- a) $M=(Q,\Sigma,\delta,q_0,F)$, $Q=\{q_1,q_2\}$, $\Sigma=\{a,b\}$, $q_0=q_1$, $F=\{q_2\}$

δ	a	b
q1	q1	q2
q2	q1	q2

- b) $M=(Q,\Sigma,\delta,q_0,F)$, $Q=\{s,r_1,r_2,q_1,q_2\}$, $\Sigma=\{a,b\}$, $q_0=s$, $F=\{q_1,r_1\}$

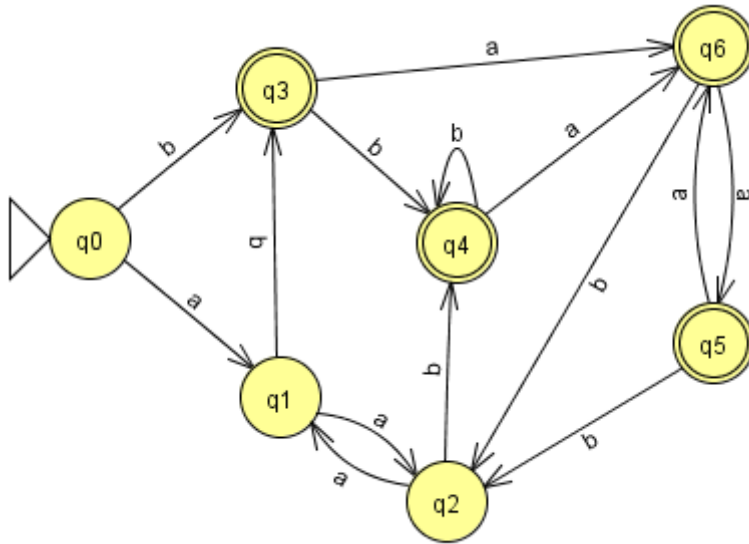
δ	a	b
s	q1	r1
r1	r2	r1
r2	r2	r1
q1	q1	q2
q2	q1	q2

- c) $M=(Q,\Sigma,\delta,q_0,F)$, $Q=\{q_0,q_1,q_2,q_3,q_4\}$, $\Sigma=\{a,b\}$, $q_0=q_0$, $F=\{q_2,q_4\}$

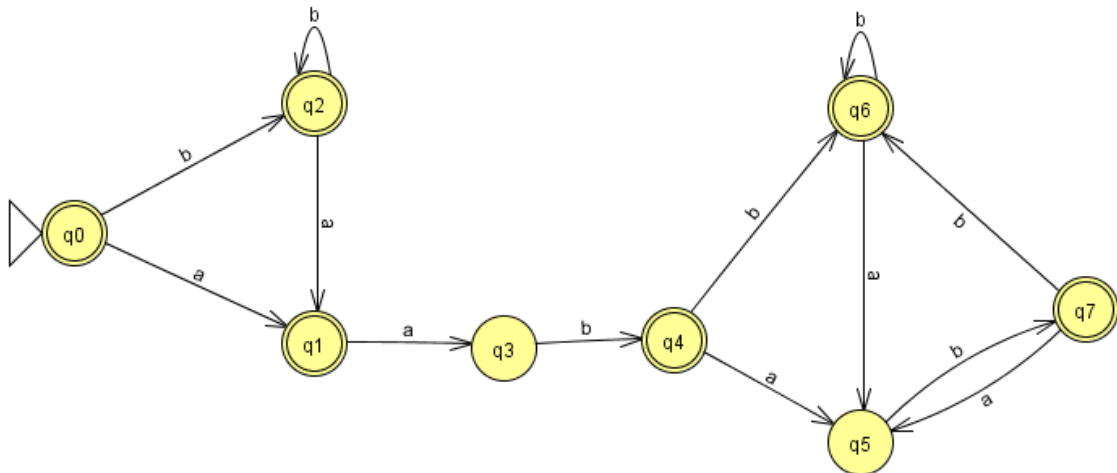
δ	a	b
q0	{q0,q1}	{q0,q3}
q1	{q2}	\emptyset
q2	{q2}	{q2}
q3	\emptyset	{q4}
q4	{q4}	{q4}

20. Verificar se $L = \{a^n b^m a^n \mid n > 0, m > 0\}$ é uma linguagem regular. (Provar que existem infinitas classes de strings “indistinguíveis”)

21. Encontre um autômato finito determinístico com o menor número de estados possível que aceite a mesma linguagem do seguinte autômato. Deixe claro quais são as classes de equivalências dos estados.



22. Encontrar o DFA mínimo



23. Encontrar o DFA mínimo que aceite apenas cadeias que contenham uma sub-cadeia “abba”.

24. Encontrar o DFA mínimo que aceite apenas cadeias que não contenham nenhuma subcadeia “abba”.

25. Construa um autômato finito determinístico que aceite a linguagem definida pela expressão regular $(ab)^*(aba \cup bab)$.

26. Esboce uma prova de que a seguinte linguagem L sobre o alfabeto $\Sigma = \{a, \wedge, \vee, (,)\}$ não é regular.

i) $a \in L$.

ii) Se $x \in L$ e $y \in L$, então $x \vee y \in L$ e $x \wedge y \in L$.

iii) Se $x \in L$, então $(x) \in L$.

iv) Só pertencem a L as cadeias construídas pela aplicação de um número finito de vezes as regras (ii) e (iii) a partir dos elementos definidos em (i).

27. Construa um autômato finito determinístico que aceite apenas as cadeias do alfabeto $\Sigma = \{0,1\}$ para as quais a quantidade de 1 é múltipla de 3 (inclusive zero ocorrências) e que não tenha dois ou mais 0s em seqüência. Mostre que o autômato projetado é mínimo.

28. A linguagem $\{a^i b^j \mid i \text{ é par} \leftrightarrow j \text{ é par}\}$ é regular?

Se sim, construir um autômato que a aceite e uma expressão regular que a represente.

Se não, demonstrar que não o é.

Gramáticas

29. Para a gramática

$S \rightarrow abSc|A$

$A \rightarrow cAd|cd$

(a) encontrar uma árvore de derivação para $ababccddcc$

(b) escrever a linguagem gerada em notação de conjunto

30. Para a gramática

$S \rightarrow ASB|\epsilon$

$A \rightarrow aAb|\epsilon$

$B \rightarrow bBa|ba$

(a) derivação mais-à-esquerda para a cadeia $aabbabbabba$

(b) derivação mais-à-direita para a mesma cadeia

(c) linguagem em notação de conjunto